

**GOSTARIA DE BAIXAR
TODAS AS LISTAS
DO PROJETO MEDICINA
DE UMA VEZ?**

CLIQUE AQUI

ACESSE

WWW.PROJETOMEDICINA.COM.BR/PRODUTOS



Projeto Medicina

Exercícios com Gabarito de Geografia

Terrorismo

1) (Vunesp-1999)



No primeiro semestre de 1998, os países assinalados no mapa com os números 1 e 2 surpreenderam o mundo com testes nucleares, reacendendo o debate sobre a questão nuclear.

Assinale a alternativa que apresenta, na ordem crescente dos números, os nomes destes dois países:

- Tailândia e Índia.
- Índia e Irã.
- Paquistão e Índia.
- Nepal e Paquistão.
- Irã e Paquistão.

2) (UNIFESP-2003) Leia as frases seguintes, sobre as dificuldades para a paz entre Israel e a Palestina.

- Destino de 3 milhões de refugiados palestinos dispersos pelos países vizinhos.
- Controle do Rio Jordão a partir das colinas de Golã, que estão sob domínio da Síria.
- Fim da Intifada, movimento de judeus pela aceitação do acordo de Oslo.
- Definição da situação de Jerusalém, apontada como capital por judeus e considerada sagrada pelos palestinos.
- Presença de colônias judaicas em áreas destinadas ao estado Palestino.

Está correto o que se afirma em:

- I, II e IV, apenas.
- I, III e V, apenas.
- I, IV e V, apenas.
- II, III e IV, apenas.
- II, III e V, apenas.

3) (UNICAMP-2004) Os processos dominantes de contra-reforma agrária no continente latino-americano foram responsáveis por uma dinâmica progressiva de concentração da riqueza e, especificamente, da terra. Processos de desagregação social provenientes da excessiva acumulação de miséria resultaram na exclusão de contingentes consideráveis, tornando 'exilados

internos' cidadãos sem oportunidades de integração produtiva no mercado de trabalho formal. Grande parte deles são provenientes de uma expulsão estrutural do campo, cada vez mais fechado ao acesso à terra ou a políticas de reprodução da agricultura, sobretudo alimentar, o que circularmente atinge o abastecimento do mercado interno nacional de consumo basicamente popular.

(Adaptado de Ana Maria Motta Ribeiro, Sociologia do narcotráfico na América Latina e a questão camponesa, em Ana Maria Motta Ribeiro e Jorge Atílio Silva Iulianelli (orgs.), Narcotráfico e Violência no Campo. Rio de Janeiro: DP&A, 2000, p. 23).

- Explique como a intensificação da concentração de terras se colocou como obstáculo à agricultura camponesa na América Latina.
- Dificuldades de manutenção das famílias camponesas no campo têm reforçado o estabelecimento da prática de cultivo de plantas narcóticas como um agronegócio (narcoagronegócio). Por que o narcoagronegócio tornou-se uma atividade alternativa para os camponeses da América Latina?
- Cite **dois** países da América do Sul onde o cultivo da coca (*Erythroxylum coca*) é tradicional entre os camponeses.

4) (UFSCar-2007) O Oriente Médio é, historicamente, zona de tensões entre povos, nações e países. Em 2006, ocorreram conflitos armados nas fronteiras de Israel, Palestina e Líbano, envolvendo exército e grupos armados. Sobre os conflitos, analise as afirmações seguintes.

- O grupo Hamas, acusado por Israel pela morte e seqüestro de soldados na região da Faixa de Gaza, é um movimento que luta pela formação do Estado Independente da Palestina e se opõe à existência do Estado de Israel.
- O grupo Hezbollah luta pela desocupação israelense nos territórios de Gaza e Golã e pela demarcação de Jerusalém como território independente, devido à sua importância religiosa para católicos, judeus e muçulmanos.
- Além dos conflitos de ordem histórica, religiosa e política, a região apresenta tensões decorrentes da escassez de recursos hídricos, como o interesse no controle das nascentes do rio Jordão.
- Uma das zonas de tensão é a fronteira do Líbano, onde se encontram as nascentes do rio Jordão, área estratégica para o acesso e controle da água doce disponível na região.

Estão corretas as afirmações:

- I e III, apenas.
- I e IV, apenas.
- II e III, apenas.
- III e IV, apenas.

e) II e IV, apenas.

5) (UFSCar-2005) Entre os diversos confrontos civis e militares existentes no mundo atual, o conflito pela posse sobre o território da Caxemira merece destaque, por envolver países importantes da Ásia. Sobre esse território, apresentam-se as quatro afirmações seguintes.

I. A Caxemira é uma região dividida e com o território sob o controle de três países: Paquistão, Índia e China.

II. Ao contrário do restante da Índia, cuja maioria é hinduísta, a Caxemira indiana tem maioria islâmica, tal qual o Paquistão.

III. A ocupação da Caxemira do leste pela China uniu os exércitos do Paquistão e da Índia na luta pela retomada do território ocupado.

IV. O conflito envolve países detentores de explosivos atômicos em seus arsenais.

É correto o que se afirma em

- A) I e III, apenas.
- B) II e IV, apenas.
- C) I, II e IV, apenas.
- D) II, III e IV, apenas.
- E) I, II, III e IV.

6) (UFSCar-2003) Avaliando o ataque aéreo aos EUA, em 2001, o sociólogo Octávio Ianni afirmou:

Quando analisamos os acontecimentos de 11 de setembro, precisamos resgatar o sentido de história. Quando vistos isoladamente, os atentados perdem vários significados e parecem coisa de um 'bando de fanáticos'... Mas, na realidade, os atentados foram apenas um fato em uma cadeia muito complexa de acontecimentos.

(Revista Ciência Hoje, setembro de 2002)

Assinale a alternativa que contém um fato que faz parte desta complexa cadeia.

- a) Crescente interferência dos EUA na política interna de outros países.
- b) Aumento dos conflitos geopolíticos entre os EUA e os novos países industriais.
- c) Interesse dos EUA em explorar economicamente as extensas terras do Afeganistão.
- d) Competição entre os EUA e o Japão pelo domínio geopolítico sobre a Ásia.
- e) Interesse dos ex-países socialistas em dominar geopoliticamente o mundo.

7) (UFPB-2006) Apesar de possuir o mais avançado processo de integração, entre todos os blocos supranacionais existentes no planeta, a União Européia possui, entre seus membros, vários países com fortes movimentos nacionalistas internos, que buscam maior

autonomia para diversos povos na Espanha, França, Itália e Reino Unido.

Sobre esse tema, identifique a(s) proposição(ões) verdadeira(s):

- 01. A Catalunha, no nordeste da Espanha, é, na atualidade, um exemplo de luta armada contra o Estado espanhol, tendo como principal questão a diferença religiosa entre a Catalunha islâmica e o resto da Espanha católica.
- 02. Os irlandeses estão territorialmente divididos: uma parte está na Irlanda do Sul, república desde 1922, e a outra vive na chamada Irlanda do Norte ou Ulster, que pertence ao Reino Unido.
- 04. Portugal enfrenta um separatismo no extremo sul de seu território, onde os galegos lutam por independência.
- 08. A França e a Itália são exemplos de países que não possuem problemas com "nacionalistas internos", inclusive o governo francês apóia a luta dos bascos espanhóis pela independência.
- 16. Os bascos estão em luta constante contra o governo central da Espanha, mas somente uma parte da população basca apóia o ETA (Pátria Basca e Liberdade), grupo que tem assumido ataques em toda a Espanha, classificados como terroristas.

A soma dos valores atribuídos à(s) proposição(ões) verdadeira(s) é igual a

8) (UFMG-2005) Na atualidade, o terrorismo vem-se constituindo em uma preocupação crescente no cenário internacional. Considerando-se essa informação, é INCORRETO afirmar que os atos terroristas

- A) instituem uma nova forma de agressão ao patrimônio humano e material de um país, sem que algum outro Estado possa ser formalmente responsabilizado pelo ato.
- B) levam à perda do significado das fronteiras, uma vez que o combate e a prevenção contra tais atos têm sido organizados, de forma conjunta, no âmbito regional ou continental.
- C) são protagonizados por atores que não se subordinam às instituições supranacionais legitimadas como promotoras da paz e da segurança do Planeta.
- D) trazem instabilidade às populações de países desenvolvidos, que usufruem de serviços públicos eficientes, de elevado padrão de vida e de instituições democráticas consolidadas.

9) (UFMG-2005) Na atualidade, o terrorismo vem-se constituindo em uma preocupação crescente no cenário internacional. Considerando-se essa informação, é INCORRETO afirmar que os atos terroristas

- A) instituem uma nova forma de agressão ao patrimônio humano e material de um país, sem que algum outro Estado possa ser formalmente responsabilizado pelo ato.
- B) levam à perda do significado das fronteiras, uma vez que o combate e a prevenção contra tais atos têm sido organizados, de forma conjunta, no âmbito regional ou continental.
- C) são protagonizados por atores que não se subordinam às instituições supranacionais legitimadas como promotoras da paz e da segurança do Planeta.
- D) trazem instabilidade às populações de países desenvolvidos, que usufruem de serviços públicos eficientes, de elevado padrão de vida e de instituições democráticas consolidadas.

10) (UFGO-2002) “O Oriente Médio é um dos principais focos de tensões geopolíticas em nível internacional. A complexidade das disputas regionais decorre de uma multiplicidade de realidades que se superpõem: nacionais, religiosas, estratégicas. (...)

(MAGNOLI, Demétrio. *O mundo contemporâneo*. São Paulo: Moderna 1996)

Assinale as afirmativas corretas.

- 01 () um dos eixos das tensões regionais é a questão árabe-israelense, que atualmente se subordina e se confunde com a questão israelo-palestina;
- 02 () o agravamento permanente das condições de pobreza nos países muçulmanos vem provocando a descrença na ordem política e econômica modelada pelo Ocidente ou pelo nacionalismo árabe, reacendendo o fanatismo religioso em suas populações;
- 03 () na geopolítica, a questão da posse de Jerusalém constitui-se em ponto controverso, pois Jerusalém que é reivindicada como capital tanto por israelenses quanto por palestinos, é sede de três significativas religiões monoteístas, além de sua importância estratégico-militar;
- 04 () para o Ocidente, o integrismo islâmico representa um dos riscos de instabilidade geopolítica que pode abalar o conjunto das relações internacionais;
- 05 () nos países muçulmanos, verifica-se a formação ou fortalecimento de grupos fundamentalistas radicais, intimamente vinculados a Teerã, que se opõem aos regimes laicos estabelecidos;
- 06 () o atentado ao World Trade Center e ao Pentágono mostrou ao mundo a periculosidade de ações terroristas, levando a todos governantes a, incondicionalmente, apoiarem toda e qualquer ação dos norte-americanos no sentido de punirem os povos responsáveis pelo ato, na tentativa de evitar que, no futuro, essa prática se propague.

11) (UFES-2001) País situado no noroeste da Europa faz parte de um arquipélago no Oceano Atlântico. O que

chama a atenção sobre esse país é o antagonismo religioso que o transformou numa das áreas de permanente tensão na Europa Ocidental.

A informação acima refere-se à/ao

- a) Escócia.
- b) República da Irlanda.
- c) Inglaterra.
- d) Irlanda do Norte.
- e) País de Gales.

12) (UEPB-2006)




National Geographic, set. 2003.

Observe a foto e assinale a alternativa que faz a correta leitura da realidade aí retratada:

- a) A mão de obra infantil é importante na complementação de renda das famílias pobres, daí a necessidade de regulamentação do trabalho infantil.
- b) A dificuldade do primeiro emprego exige que os jovens cedo procurem uma profissionalização.
- c) O trabalho infantil evita que a criança fique na rua, exposta ao tráfico e ao crime, daí sua importância na formação de um adulto correto.
- d) Crianças do terceiro mundo, são obrigadas a trabalhar desde cedo, em muitos casos em regime de semi-escravidão ou mesmo de escravidão, sofrendo maus tratos, sem remuneração e em atividades insalubres.
- e) Crianças a partir de dez anos que exercem atividades remuneradas já passam a compor a população economicamente ativa do país.

13) (UEPB-2006)



National Geographic, set. 2003.

A foto mostra jovens prostitutas provenientes do Nepal, expostas por traficantes em jaulas de 2m² que lhes servem de residência e local de trabalho, na cidade de Mumbai - Índia.

A cena denuncia:

I. O problema do tráfico de pessoas que movimentava aproximadamente US\$ 9 bilhões por ano, do qual as mulheres são as principais vítimas, representando algo em torno de 95% desse comércio ilegal.

II. A punição prevista pelo protocolo de Palermo, que prevê sanções contra os países que não reprimem o crime organizado, mas termina por prejudicar as mulheres que têm de trabalhar na ilegalidade.

III. A polêmica sobre a legalização do comércio do próprio corpo, que divide governos, intelectuais e pessoas comuns, dificultando a regulamentação da profissão da prostituta e estigmatizando as profissionais do sexo.

IV. A exploração sexual de mulheres que entram clandestinamente em países estrangeiros e tornam-se escravas das redes de prostituição, situação que tem se agravado com a globalização. Estão corretas apenas as proposições:

- a) II e III
- b) I e IV
- c) I e III
- d) II e IV
- e) II, III e IV

14) (UEL-2006) Analise a imagem a seguir.



Fonte: *Folha de S. Paulo*, São Paulo, 19 ago. 2005. Mundo, p. A 15.

Depois de 38 anos, em agosto de 2005, chegou ao fim a ocupação israelense na Faixa de Gaza.

Com base no mapa e nos conhecimentos sobre o tema, considere as afirmativas a seguir.

I. A retirada da população judia dos assentamentos da faixa de Gaza está relacionada ao Plano de Paz, elaborado com o objetivo de mitigar os ataques terroristas a Israel.

II. Apesar da forte oposição de grupos radicais religiosos à retirada da população israelense da faixa de Gaza, a maioria da população daquele país foi a favor do ato.

III. Compõe um dos focos das estratégias do Plano de Paz a retirada da população judia da cidade de Jerusalém.

IV. Ao longo do tempo, a permanência da minoria judaica na faixa de Gaza tornou-se problemática em decorrência da presença de mais de um milhão de palestinos na região.

Estão corretas apenas as afirmativas:

- a) I e II.
- b) II e III.
- c) III e IV.
- d) I, II e IV.
- e) I, III e IV.

15) (PUC-MG-2002) Islamismo e fundamentalismo islâmico têm sido utilizados como expressões sinônimas, com certa frequência, nos meios de comunicação. Entretanto, estão longe de constituir exatamente a mesma coisa. Dentre as afirmações abaixo, aquela que **NÃO** apresenta análise correta da questão islâmica é:

- a) o islamismo tem sido utilizado como uma resposta às políticas imperialistas internacionais na região do Oriente Médio.
- b) o islamismo é uma religião exclusiva de povos árabes do Oriente Médio e

norte da África.

c) o fundamentalismo islâmico se relaciona à leitura literal do Corão, aplicando-

a, inclusive, às questões políticas.

d) o fundamentalismo islâmico surge como uma resposta à ausência de possibilidades de negociação para as questões políticas e sociais regionais.

16) (PUC - SP-2006) Em 25 de janeiro de 2006, o Hamas, grupo político palestino de posições e ações mais extremas, venceu as eleições para o parlamento Palestino derrotando o Fatah (considerado mais moderado), ligado à OLP e a Yasser Arafat, líder que faleceu em 2004. Essa vitória levou, entre outras coisas, à interrupção da ajuda financeira à região por parte de alguns países e organizações, entre os quais a União Européia. Essa reação se deve, sobretudo, ao fato de que o Hamas

A) firmou tratados de paz e de cooperação econômica com Israel, dispensando, portanto, ajuda humanitária do ocidente.

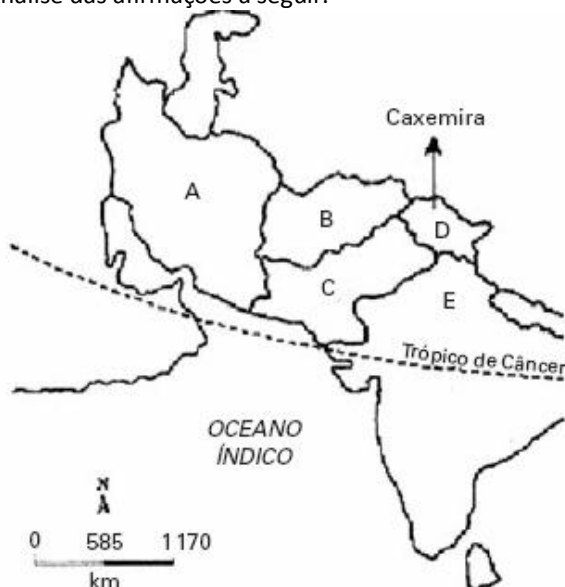
B) ascendeu como um movimento que tem práticas terroristas, cujo principal objetivo é a eliminação do Estado de Israel.

C) tem íntimas relações com o Irã e a Arábia Saudita, os quais passaram a fornecer vultosos empréstimos financeiros e apoio militar e energético para a Palestina.

D) recusa qualquer ajuda financeira que tenha origem no ocidente cristão, por ser um partido de esquerda islâmico.

E) organizou vários atentados terroristas na Europa e nos EUA, segundo a União Européia.

17) (Mack-2006) Com base no mapa abaixo, faça uma análise das afirmações a seguir.



I. O país **A**, em 2002, foi nominalmente acusado de ser integrante do **eixo do mal** (em conjunto com Coréia do Norte e Iraque), pelo governo dos Estados Unidos, devido

à desconfiança de ter realizado investimentos em projetos para produção de armas nucleares.

II. Com os atentados de 11 de setembro, os Estados Unidos exigiram que o país **B**, por intermédio do Taliban, entregasse Osama Bin Laden, acusado de ser o grande mentor e mandante dos ataques.

III. Com a independência em 1947 e a saída das tropas francesas, os antigos conflitos entre muçulmanos e hindus vieram à tona. Dessa forma, a Índia colonial foi dividida em dois países: Paquistão (país **C**), com população predominantemente muçulmana, e Índia (país **E**), de maioria hinduísta. Na região fronteiriça do norte, encontramos uma grande tensão entre os dois países pela disputa da Caxemira.

É correto o que se afirma em:

- a) I, apenas.
- b) I e II, apenas.
- c) II, apenas.
- d) III, apenas.
- e) I, II e III.

18) (Mack-2004) No ano 2.000, o Primeiro Ministro de Israel, Ehud Barak, propôs aos palestinos o controle integral da Faixa de Gaza e 90% da Cisjordânia, mas se recusou a entregar Jerusalém Oriental, área que os palestinos reivindicam como capital, o que criou um impasse. Em setembro do mesmo ano, o então general Ariel Sharon entrou ostensivamente na Esplanada das Mesquitas em Jerusalém, afirmando a soberania israelense sobre o terceiro local mais sagrado do Islã e promovendo a segunda Intifada entre os muçulmanos.

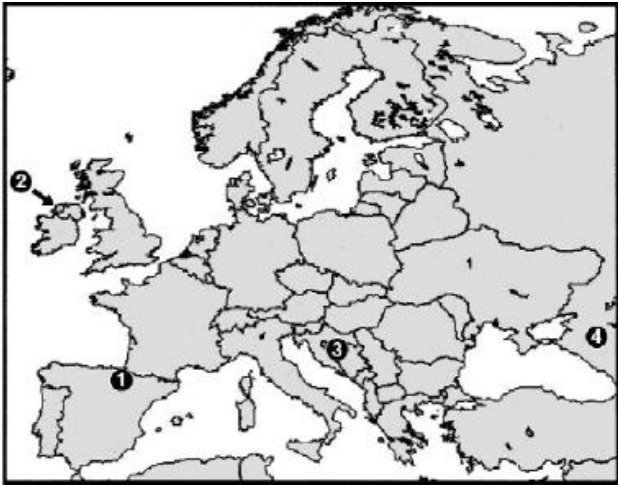
Dentre as medidas propostas por Israel para resolver o problema palestino, destaca-se:

- a) a construção de um muro que separaria as áreas ocupadas pelos palestinos do território israelense, visando dificultar ações terroristas.
- b) a remoção total dos colonos judeus assentados em territórios palestinos.
- c) o cumprimento integral das resoluções da ONU sobre a área.
- d) a aceitação da existência de um Estado Palestino, com a capital em Thaifa.
- e) a formação, pela Síria, Líbano e Egito, de uma comissão internacional formada para traçar as fronteiras de um futuro Estado Palestino.

19) (Mack-2005) No continente europeu, estão numeradas as áreas de 1 a 4, onde, nas últimas décadas, vêm se travando exemplos de intolerância humana, justificada por questões étnicas ou religiosas. Tais exemplos ofuscam também questões econômicas. No mapa, a alternativa que identifica, correta e respectivamente, essas questões é:

- a) 1 – Basca, 2 – Irlandesa, 3 – Balcânica, 4 – da Chechênia.
- b) 1 – Basca, 2 – Irlandesa, 3 – Báltica, 4 – da Caxemira.

- c) 1 – Irlandesa, 2 – Curda, 3 – Basca, 4 – da Chechênia.
 d) 1 – Irlandesa, 2 – Curda, 3 – Balcânica, 4 – da Armênia.
 e) 1 – Curda, 2 – Basca, 3 – da Caxemira, 4 – Báltica.



Paulo Roberto Moraes. Geografia Geral e do Brasil

20) (Mack-2005) O IMPÉRIO DO MEDO

As potências inflam e distorcem a ameaça do terror para fazer dela um instrumento de poder. E a mídia dispõe-se a ajudá-las a infantilizar e submeter as massas.

Carta Capital

A indiferença

Primeiro levaram os comunistas,
 Mas eu não me importei com isso,
 Eu não sou comunista.

Em seguida levaram alguns operários,
 Mas eu não me importei com isso,
 Eu também não era operário.

Depois prenderam os sindicalistas,
 Mas eu não me importei com isso,
 Eu não sou sindicalista.

Depois agarraram os sacerdotes
 Mas como eu não sou religioso,
 Também não me importei.

Agora estão me levando,
 Mas já é tarde.

Bertold Brecht



O texto de Carta Capital, o poema e a ilustração sugerem que

- a) o Estado usa a idéia de um suposto inimigo comum, um outro sistema econômico ou social e outras etnias ou religiões etc, para implantar um terrorismo de Estado, restringindo as liberdades individuais de sua população.
 b) com a ameaça externa, ou mesmo interna, o Estado é obrigado a implantar leis mais rígidas para manter a segurança de seu povo.
 c) as populações do mundo todo estão amedrontadas com a ameaça do terrorismo e exigem de seus governos uma atitude severa em relação aos possíveis responsáveis.
 d) é com atitude de indiferença que o Estado lida com a possível ameaça do comunismo ou do terrorismo, causando na população a sensação de insegurança.
 e) é dever do Estado garantir o bem-estar de sua população e adotar medidas preventivas quanto a qualquer ameaça comunista ou terrorista dentro de suas fronteiras.

21) (Mack-2005) Sobre a área destacada no mapa, assinale a alternativa INCORRETA



- a) A região ganhou relativa autonomia política após a morte do general Franco.
 b) O povo basco, que vive na região, possui uma origem não muito bem definida.
 c) De orientação socialista e com idéias separatistas, nela surgiu o grupo terrorista ETA.
 d) Após vários atentados, na Espanha e mesmo dentro do país Basco, o terrorismo perdeu apoio da população entre os anos 80 e 90.
 e) Representa parte do território espanhol que pretende se separar da Espanha e se unir à França.

22) (IBMEC-2006) O Tratado de Não-Proliferação Nuclear, TNP, foi assinado em 1968 e enfrenta agora um teste difícil. O Irã tornou-se o centro das preocupações

mundiais ao decidir retomar seu programa nuclear. Sobre o TNP e o contexto da crise do Irã, é **correto** afirmar que:

a) O Irã retirou-se do Tratado de Não-Proliferação Nuclear em 1993 e, desde então, manteve-se afastado de qualquer tipo de pesquisa nuclear. Em 2006 retomou esse processo afrontando os signatários do tratado e por isso foi denunciado ao Conselho de Segurança da ONU.

b) O Irã alega que tem o direito de fazer sua bomba citando os casos de Israel, Paquistão e Índia. Esses países são signatários do Tratado de Não-Proliferação Nuclear e conseguiram desenvolver suas bombas atômicas porque fizeram isso antes da existência do tratado.

c) Ao contrário do Irã, a Coreia do Norte nunca assinou o Tratado de Não-Proliferação Nuclear, e nada indicava que dominasse essa tecnologia. No entanto, em 2003, a Agência Internacional de Energia Atômica, AIEA, descobriu que o país tinha instalações nucleares.

d) O Brasil é signatário do Tratado de Não-Proliferação Nuclear desde a sua criação em 1968. Na década de 1970, no entanto, assinou um acordo nuclear com a Alemanha que foi supervisionado pela Agência Internacional de Energia Atômica.

e) O Irã alega que tem o direito de produzir um ciclo de combustível para energia nuclear, mas, como escondeu seu programa de enriquecimento de urânio, foi levado ao Conselho de Segurança da ONU pela Agência Internacional de Energia Atômica.

23) (IBMEC-2006) Em 2006, o grupo Hamas venceu as eleições na Palestina. Sobre esse grupo é **correto** afirmar que:

a) foi criado por Iasser Arafat na primeira Intifada, sempre esteve dividido entre um braço político e outro armado. Enquanto o braço armado foi responsável por atentados contra Israel, o braço político disputa eleições parlamentares.

b) surgiu em 1987, no início da primeira Intifada, com o objetivo de combater a ocupação israelense. Ao longo de sua história cometeu uma série de atentados suicidas contra alvos israelenses, sendo considerado um grupo terrorista.

c) foi grande fiador político dos Acordos de Oslo entre os palestinos. Seu fundador, o Sheikh Yassin, empenhou-se pelas conversações com Israel e Estados Unidos, opondo-se ao grupo Fatah.

d) surgiu na segunda Intifada como um movimento de resistência islâmica para lutar contra a existência do estado de Israel. Atentados suicidas foram cometidos pelo braço armado do grupo, as brigadas de Al-Aqsa.

e) surgiu como um grupo armado de resistência à ocupação israelense, mas abandonou os atentados suicidas após a retirada de colonos israelenses da Faixa de Gaza, voltando-se para a ação política.

24) (IBMEC-2006) Recentemente (julho de 2005) o IRA (Exército Republicano Irlandês) anunciou publicamente, depois de quase cem anos de sua fundação, o fim das ações terroristas. Esse grupo sempre empunhou a bandeira da reunificação da Irlanda e, portanto, a sua separação do Reino Unido. A imprensa nacional e internacional aventa que tal medida pode estar ligada:

a) à possibilidade, ainda neste ano, do primeiro ministro Tony Blair assinar a definitiva separação da Irlanda do Norte do Reino Unido e a sua tão esperada unificação com a República da Irlanda.

b) à percepção de que os atos terroristas não levam a lugar nenhum, uma vez que, depois de quase cem anos de existência, o IRA não conseguiu realizar nenhum acordo com o governo britânico.

c) à mudança dos membros do alto escalão do IRA, menos comprometidos com a causa da libertação da Irlanda do Norte e mais preocupados em manter acordos com guerrilheiros muçulmanos (Al Qaeda) e colombianos (Farc).

d) aos ataques muçulmanos a Londres, pois esses teriam “roubado” do IRA o seu terreno de ação, levando as pessoas a confundir as organizações e a aumentar a aversão às práticas terroristas do grupo irlandês.

e) ao grupo unionista da Irlanda do Norte, liderado pelo pastor Ian Paisley, cada vez mais forte dentro do país, que vem gradativamente desmontando o grupo separatista e trazendo a público suas ligações com a máfia irlandesa.

25) (Fuvest-2004) O aumento do número de mortes de soldados das forças de ocupação do Iraque, mesmo após o anúncio do final da guerra pelo governo dos Estados Unidos, deve-se à:

a) participação tardia da Rússia, que procurou salvaguardar seus interesses geopolíticos na região.

b) reação da população iraquiana, que não aceita a presença de estrangeiros no país.

c) redução do efetivo militar norte-americano para cortar as despesas com a ocupação.

d) ação da inteligência norte-americana, que conseguiu isolar os dirigentes procurados, sem destruir as cidades.

e) maior vulnerabilidade da população em função da ausência de governo local.

26) (Fuvest-1999) Alguns conflitos mundiais, embora bastante antigos, ainda persistem na década de 1990. Relacione os tipos de conflito aos lugares de ocorrência.

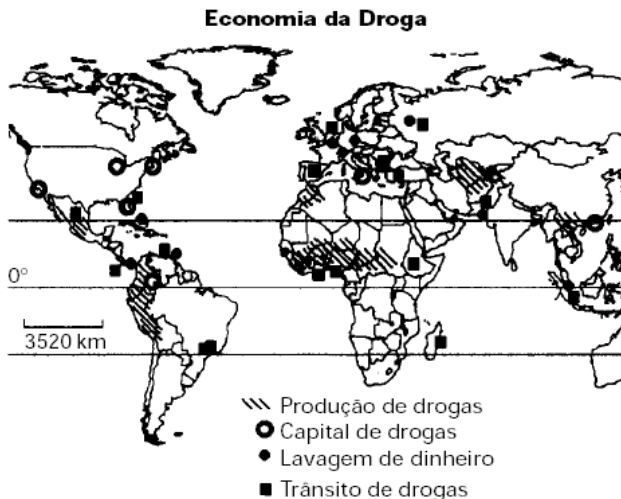
a) Guerra civil (PAÍS BASCO) e movimento separatista (TIBET).

b) Movimento separatista (ARGÉLIA) e grave conflito interno (TIMOR).

c) Movimento separatista (TIMOR) e grave conflito interno (CHIAPAS).

d) Guerra civil (TIBET) e grave conflito interno (CHIAPAS).
e) Movimento separatista (ARGÉLIA) e guerra civil (PAÍS BASCO).

27) (Fuvest-2001) Observe o mapa abaixo.



Adap. Folha S. Paulo, 1993 / Le Monde, 1996.

Apenas em países de baixa renda,

- existem “capitais” de drogas.
- ocorre lavagem de dinheiro.
- há distribuição de drogas.
- acontece trânsito de drogas.
- ocorre produção de drogas.

28) (FMTM-2005) Ataques coordenados contra 20 oleodutos no sul do país fizeram com que a exportação de petróleo da região fosse reduzida à metade. Os dutos que ligam os poços petrolíferos de Rumeila a Berjasiya foram incendiados por rebeldes para prejudicar os esforços de reconstrução do país. As ameaças contra a infra-estrutura petrolífera aumentaram recentemente em meio ao violento levante de militantes xiitas no sul do país. (O Estado de S.Paulo, 27.08.2004)

A partir de seus conhecimentos geográficos e das informações contidas no texto, pode-se afirmar que essa série de problemas estão ocorrendo

- no Afeganistão.
- na Rússia.
- na Nigéria.
- no Iraque.
- na Argélia.

29) (FMTM-2005) Em março de 2005, o secretário geral, Kofi Annan, propõe que a ONU adote este princípio: qualquer ato com intenção de ferir e matar civis para pressionar governos, organizações ou populações como o preâmbulo para a assinatura de um tratado internacional de combate

- à globalização.
- ao neoliberalismo.
- ao terrorismo.
- ao racismo.
- ao Consenso de Washington.

30) (FGV - SP-2009) Após os ataques de 11 de setembro, os Estados Unidos adotaram em sua política externa uma estratégia unilateral para consolidarem sua supremacia político-militar, a qual ficou conhecida como “Doutrina Bush”.



FONTE: ANGELI, Arnaldo. O mundo depois de 11 de setembro. In: LUCCI, BRANCO & MENDONÇA. Geografia Geral e do Brasil. 3ª ed. São Paulo: Saraiva, 2005. p. 65.

- Explique os princípios gerais defendidos pela “Doutrina Bush”. (4)
- Qual objetivo geopolítico estadunidense a charge ironiza? Justifique sua resposta. (5)
- Quais interesses econômicos justificaram ações estadunidenses como o ataque ao Afeganistão e a ocupação do Iraque? (6)

31) (FGV-2005) Texto 1

A Corte Internacional de Justiça da ONU declarou, em julho de 2004, que a barreira que Israel está construindo entre seu território e a Cisjordânia viola as leis internacionais. Essa barreira é um muro de concreto de cerca de oito metros de altura, protegido por valas eletrificadas, trincheiras e guaritas e deverá, se for totalmente edificado, chegar a ter 685 Km de extensão. (Folha de São Paulo, 10 de julho de 2004)

Texto 2

Durante 28 anos, de 1961 a 1989, a população de Berlim padeceu uma experiência ímpar na história moderna: viu a cidade ser dividida por um imenso muro. Inicialmente, um interminável arame farpado alongou-se por 37 quilômetros adentro da zona residencial da cidade, para logo depois ser erguido um verdadeiro muro. (Extraído e adaptado de

www.terra.com.br/voltaire/mundo/muro.htm)

A história da humanidade é marcada por lutas, divergências e rivalidades. Indique a natureza e as diferenças entre os conflitos que geraram a existência das duas barreiras a que se referem os textos 1 e 2.

32) (FGV-2003) A geografia, enquanto descrição metodológica dos espaços, tanto sob os aspectos que se convencionou chamar de “físicos” como sob suas características econômicas, sociais, demográficas e políticas, deve absolutamente ser recolocada, como prática e como poder, no quadro das funções que exerce o aparelho de Estado, tanto para o controle e organização do território como para a guerra.

Fonte: (Adapt.) Lacoste, Yves. *A Geografia – isso serve, em primeiro lugar, para fazer a guerra*. Campinas: Papyrus, 1993, p. 23.

No conflito recente no Iraque, a afirmativa acima é evidenciada, dentre outros fatos, considerando-se:

o uso intensivo, pelas forças armadas dos Estados Unidos e Grã-Bretanha, de imagens de satélite e fotografias aéreas de grande escala, permitindo a suas tropas o conhecimento detalhado do território iraquiano. a dificuldade, por parte das forças armadas dos Estados Unidos e da Grã-Bretanha, em encontrar armas de destruição em massa no território iraquiano, porque elas não podem ser detectadas por fotografias aéreas e imagens de satélite.

C a utilização, pelas forças armadas do Iraque, do expediente da queima de petróleo próximo a alvos estratégicos, gerando grande quantidade de fumaça para impedir a utilização de bombas e mísseis guiados pelo sistema de coordenadas.

o desconhecimento, pelas forças armadas dos Estados Unidos e Grã-Bretanha, das principais rodovias e pontes no território iraquiano, como resultado da pequena escala das imagens geradas por satélite.

a inadequação da ONU e de seus órgãos na resolução de conflitos para intervir diretamente no Iraque, necessitando do apoio militar dos Estados Unidos e da Grã-Bretanha.

a inadequação da ONU e de seus órgãos na resolução de conflitos para intervir diretamente no Iraque, necessitando do apoio militar dos Estados Unidos e da Grã-Bretanha.

33) (ENEM-2003) No dia 7 de outubro de 2001, Estados Unidos e Grã-Bretanha declararam guerra ao regime Talibã, no Afeganistão. Leia trechos das declarações do presidente dos Estados Unidos, George W. Bush, e de Osama Bin Laden, líder muçulmano, nessa ocasião: George Bush:

Um comandante-chefe envia os filhos e filhas dos Estados Unidos à batalha em território estrangeiro somente depois

de tomar o maior cuidado e depois de rezar muito. Pedimos-lhes que estejam preparados para o sacrifício das próprias vidas. A partir de 11 de setembro, uma geração inteira de jovens americanos teve uma nova percepção do valor da liberdade, do seu preço, do seu dever e do seu sacrifício. Que Deus continue a abençoar os Estados Unidos.

Osama Bin Laden:

Deus abençoou um grupo de vanguarda de muçulmanos, a linha de frente do Islã, para destruir os Estados Unidos. Um milhão de crianças foram mortas no Iraque, e para eles isso não é uma questão clara. Mas quando pouco mais de dez foram mortos em Nairóbi e Dar-es-Salaam, o Afeganistão e o Iraque foram bombardeados e a hipocrisia ficou atrás da cabeça dos infieis internacionais. Digo a eles que esses acontecimentos dividiram o mundo em dois campos, o campo dos fiéis e o campo dos infieis. Que Deus nos proteja deles.

(Adaptados de *O Estado de S. Paulo*, 8/10/2001)

Pode-se afirmar que

(A) a justificativa das ações militares encontra sentido apenas nos argumentos de George W. Bush.

(B) a justificativa das ações militares encontra sentido apenas nos argumentos de Osama Bin Laden.

(C) ambos apóiam-se num discurso de fundo religioso para justificar o sacrifício e reivindicar a justiça.

(D) ambos tentam associar a noção de justiça a valores de ordem política, dissociando-a de princípios religiosos.

(E) ambos tentam separar a noção de justiça das justificativas de ordem religiosa, fundamentando-a numa estratégia militar.

34) (ENEM-2002) 1 – “(...) o recurso ao terror por parte de quem já detém o poder dentro do Estado não pode ser arrolado entre as formas de terrorismo político, porque este se qualifica, ao contrário, como o instrumento ao qual recorrem determinados grupos para derrubar um governo acusado de manter-se por meio do terror”.

2 – Em outros casos “os terroristas combatem contra um Estado de que não fazem parte e não contra um governo (o que faz com que sua ação seja conotada como uma forma de guerra), mesmo quando por sua vez não representam um outro Estado. Sua ação aparece então como irregular; no sentido de que não podem organizar um exército e não conhecem limites territoriais, já que não provêm de um Estado”.

Dicionário de Política(org.) BOBBIO, N., MATTEUCCI, N. e PASQUINO, G., Brasília: Edunb,1986.

De acordo com as duas afirmações, é possível comparar e distinguir os seguintes eventos históricos:

I. Os movimentos guerrilheiros e de libertação nacional realizados em alguns países da África e do sudeste asiático entre as décadas de 1950 e 70 são exemplos do primeiro caso.

II. Os ataques ocorridos na década de 1990, como às embaixadas de Israel, em Buenos Aires, dos EUA, no Quênia e Tanzânia, e ao World Trade Center em 2001, são exemplos do segundo caso.

III. Os movimentos de libertação nacional dos anos 50 a 70 na África e sudeste asiático, e o terrorismo dos anos 90 e 2001 foram ações contra um inimigo invasor e opressor, e são exemplos do primeiro caso.

É correto o que se afirma apenas em

- a) I.
- b) II
- c) I e II.
- d) I e III.
- e) II e III.

a) “tristeza e indignação são grandes porque os atentados ocorreram em Nova Iorque”.

b) “ao longo da história, o homem civilizado globalizou todas as suas mazelas”.

c) “a Europa nos explorou vergonhosamente”.

d) “o neoliberalismo instituiu o deus mercado que tudo resolve”.

e) “os negócios das indústrias de armas continuam de vento em popa”.

35) (ENEM-2002) Um jornalista publicou um texto do qual estão transcritos trechos do primeiro e do último parágrafos:

“Mamãezinha, minhas mãozinhas vão crescer de novo? Jamais esquecerei a cena que vi, na TV francesa, de uma menina da Costa do Marfim falando com a enfermeira que trocava os curativos de seus dois cotos de braços. (...)”.

.....
.....
“Como manter a paz num planeta onde boa parte da humanidade não tem acesso às necessidades básicas mais elementares? (...) Como reduzir o abismo entre o camponês afegão, a criança faminta do Sudão, o Severino da cesta básica e o corretor de Wall Street? Como explicar ao menino de Bagdá que morre por falta de remédios, bloqueados pelo Ocidente, que o mal se abateu sobre Manhattan? Como dizer aos chechenos que o que aconteceu nos Estados Unidos é um absurdo? Vejam Grozny, a capital da Chechênia, arrasada pelos russos. Alguém se incomodou com os sofrimentos e as milhares de vítimas civis, inocentes, desse massacre? Ou como explicar à menina da Costa do Marfim o sentido da palavra ‘civilização’ quando ela descobrir que suas mãos não crescerão jamais? ”.

.....
UTZERI, Fritz. Jornal do Brasil, 17/09/2001.

Apresentam-se, abaixo, algumas afirmações também retiradas do mesmo texto. Aquela que explicita uma resposta do autor para as perguntas feitas no trecho citado é:

GABARITO

- 1) Alternativa: C
- 2) Alternativa: C
- 3) a) A intensificação da concentração de terra ocorreu na América Latina como parte da própria dinâmica histórica herdada do pré-capitalismo mercantil, quando houve concentração da riqueza por causa da produção agrária do tipo exportadora e da própria terra tida como um bem. A agricultura camponesa, por sua vez, foi limitada por essa produção agrocomercial mais destacável, além da falta de apoio governamental para a agricultura de subsistência.
- b) O narcoagronegócio tornou-se uma atividade alternativa para os camponeses da América Latina por ser uma forma agregadora; com a inserção dos “exilados internos”, como menciona o texto, os expulsos estruturalmente do campo agora estão atrelados a um empreendimento informal e ilícito. As famílias excluídas dentro do processo de concentração fundiária encontram nessa atividade ilícita uma forma de sobrevivência mais bem remunerada” que a atividade de subsistência.
- c) O cultivo da coca é de fundamental importância para a população camponesa do Peru, da Bolívia, da Colômbia e do Equador, onde existem grandes áreas produtoras.
- 4) Alternativa: A
- 5) Alternativa: C
- 6) Alternativa: A
- 7) Resposta: 18
- 8) Alternativa: B
- 9) Alternativa: B
- 10)
- 11) Alternativa: D
- 12) Alternativa: D
- 13) Alternativa: B
- 14) Alternativa: D
- 15) Alternativa: B
- 16) Alternativa: B
- 17) Alternativa: B
- 18) Alternativa: A
- 19) Alternativa: A
- 20) Alternativa: A
- 21) Alternativa: E
- 22) Alternativa: E
- 23) Alternativa: B
- 24) Alternativa: B
- 25) Alternativa: B
- 26) Alternativa: C
- 27) Alternativa: E
- 28) Alternativa: D
- 29) Alternativa: C
- 30) a) Doutrina Bush é o conjunto de princípios definidos pelo presidente dos Estados Unidos, George W. Bush, proferidos após os atentados de 11 de setembro. Os princípios fundamentais são:
As nações do mundo estão conosco ou com os terroristas. Discurso de Bush no Congresso ó 20/09/2001: foi o que desencadeou a caça aos terroristas em todo o mundo, as ameaças aos países que abrigam terroristas e a popularização da expressão “Eixo do Mal”. As forças norte-americanas têm que ser firmes o bastante para dissuadir seus potenciais adversários de buscar se equiparar ao poderio dos Estados Unidos. Documento “A Estratégia de Segurança Nacional dos EUA”, enviado ao Congresso ó 20/09/2002: defende uma escalada militar baseada na expansão dos investimentos no setor bélico e na idéia de supremacia militar do país. A guerra contra o terror não será ganha na defensiva e sim com ação preventiva. Redes terroristas não têm nações ou cidadãos e não podem ser contidos por táticas tradicionais. Discurso de Bush aos cadetes de West Point ó 02/06/2004: defende a necessidade de ataques militares preventivos dentro da conjuntura da Nova Ordem Internacional. Princípios secundários, de base econômica, que poderiam ser citados: o comércio e os investimentos alavancam o crescimento econômico; oposição à intervenção estatal na economia.
- b) A charge ironiza a pretendida hegemonia econômica e militar norte-americana. A ironia está no quadro final, quando um personagem afirma que o mundo todo agora se chama Estados Unidos da América, embora o cenário seja um lugar destruído pela guerra.
- c) A ocupação do Iraque tem uma clara relação com as questões econômicas, já que o país tem a segunda maior

reserva mundial de petróleo e os Estados Unidos anseiam por mantê-la sob sua influência. O ataque ao Afeganistão, realizado um mês após os atentados de setembro de 2001, está mais ligado à execução geopolítica da doutrina Bush, que defendia uma forte ofensiva ao terrorismo, como explicado acima.

31) A **natureza** dos conflitos a que se referem os textos é muito diferente. O texto 1 relata a construção de uma barreira entre Israel e Cisjordânia, episódio relacionado com a luta entre israelenses e palestinos por disputa territorial. O texto 2 relata a divisão de Berlim, que refletia a rivalidade ideológica entre Estados Unidos (capitalista) e União Soviética (socialista), no contexto da Guerra Fria. Entre as **diferenças** dos conflitos que geraram essas barreiras, pode-se destacar o fato de a primeira estar sendo construída para impedir a entrada em Israel de pessoas consideradas, pelo governo israelense, uma ameaça à sua segurança interna, e a segunda ter sido construída, pelo governo da Alemanha Oriental, com apoio soviético, para impedir a saída de berlinenses orientais para a porção ocidental da cidade em busca de trabalho melhor remunerado e melhores condições de vida.

32) Alternativa: A

33) Alternativa: C

34) Alternativa: C

35) Alternativa: B